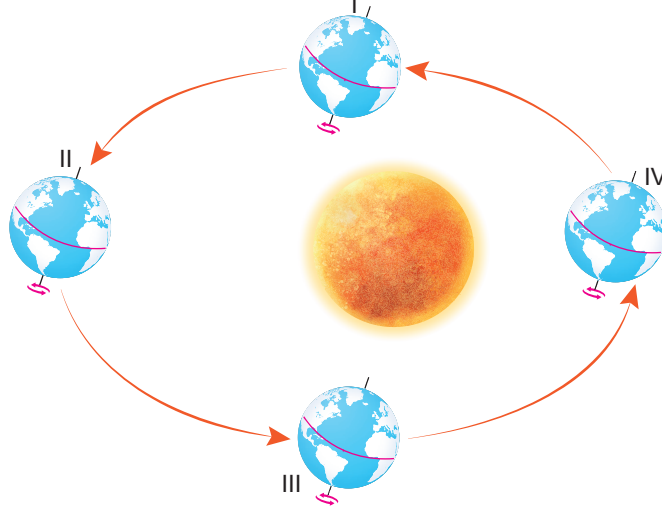




YepDers.com bir Ekpert Yayıncılık Markasıdır.

1. Aşağıdaki görselde Dünya'nın Güneş etrafındaki dolanımı sırasında mevsim geçişlerinin meydana geldiği konumlar I, II, III ve IV şeklinde numaralandırılarak gösterilmiştir.



Buna göre aşağıdaki ifadelerden hangisi yanlıştır?

- A) Dünya III konumunda iken Kuzey Yarım Kürede sonbahar mevsimi başlar.
B) Güney Yarım Küre'de yaz mevsimi Dünya IV konumunda iken başlar.
C) Güneş' den gelen ışınlar Kuzey Yarım Küreye II konumunda daha büyük açı ile düşer.
D) Güneş' den gelen ışınlar Ekvator düzlemi üzerine yıl boyunca dik açı ile düşer.

2. Aşağıdaki Dünya görselinde K, L, M şehirlerinin Dünya üzerinde buldukları konumları belirtilmektedir.



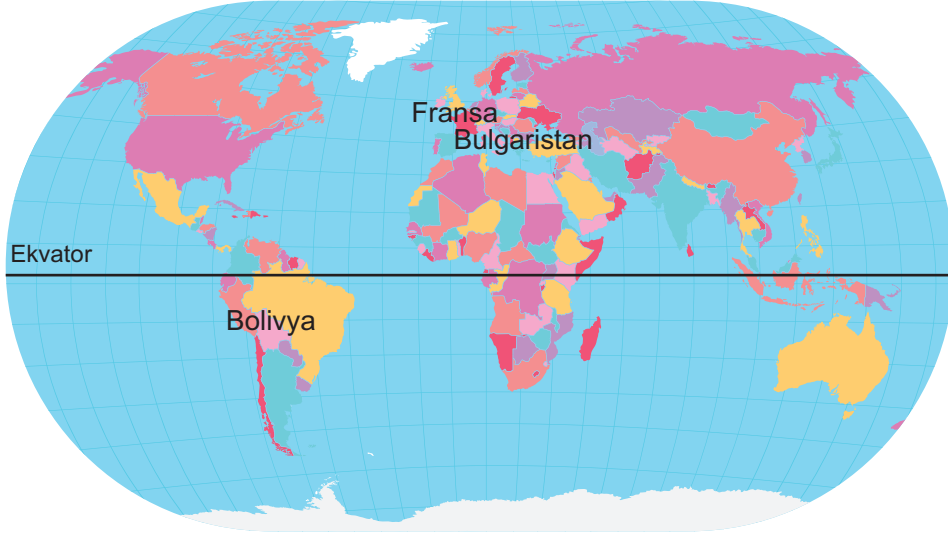
Buna göre;

- I. K ve L şehirleri aynı yarım kürede bulunmaktadır.
II. Aynı tarihte M ile L şehirlerinde farklı mevsimleri yaşanır.
III. 21 Haziran tarihinde en uzun gündüz K şehrinde yaşanır.

İfadelerinden hangileri doğrudur?

- A) Yalnız II. B) Yalnız III. C) II ve III. D) I, II ve III.

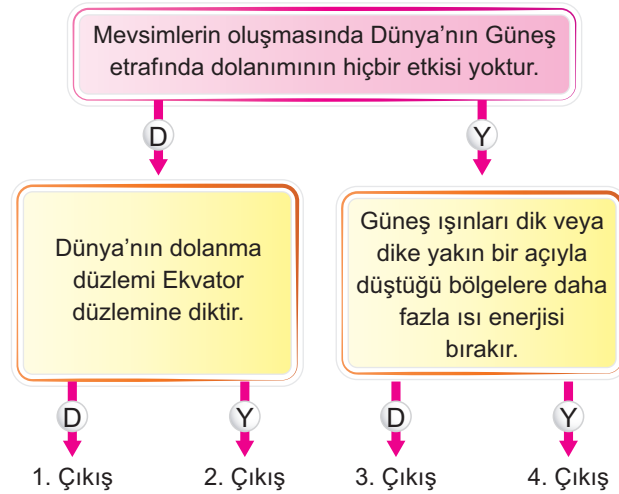
3. Fransa, Bulgaristan ve Bolivya'nın Dünya üzerindeki yerleri aşağıdaki görselde belirtilmiştir.



Buna göre 15 Nisan'da Fransa'da 23 Mayıs'ta Bolivya'da ve 24 Kasım'da Bulgaristan'da bulunan bir kişinin bulunduğu sırada ülkelerde hangi mevsimler yaşanmıştır?

- A) İlkbahar - İlkbahar - Sonbahar
 B) Sonbahar - Yaz - Sonbahar
 C) İlkbahar - Sonbahar - Sonbahar
 D) İlkbahar - Sonbahar - Kış

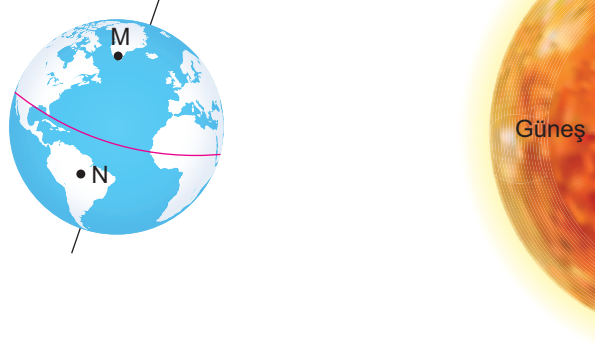
4.



Kutucuklarda verilen ifadeler doğru ise "D" yanlış ise "Y" olarak ilerlendiğinde hangi çıkışa ulaşılır?

- A) 1. Çıkış
 B) 2. Çıkış
 C) 3. Çıkış
 D) 4. Çıkış

5. Dünya'nın Güneş etrafındaki dolanımı esnasında bulunduğu bir konum ile M ve N ülkelerinin Dünya üzerindeki yerleri aşağıdaki görselde verilmiştir.



Buna göre bu ülkelerle ilgili olarak aşağıdaki ifadelerden hangisi yanlıştır?

- A) Güneş ışınları M ülkesine daha büyük açı ile gelmektedir.
 B) Bir cismin öğle saatinde ölçülen gölge boyu M ülkesinde daha uzundur.
 C) N ülkesinde gece süresi gündüz süresinden daha fazladır.
 D) M ülkesinde yaz mevsimi, N ülkesinde ise kış mevsimi başlar.

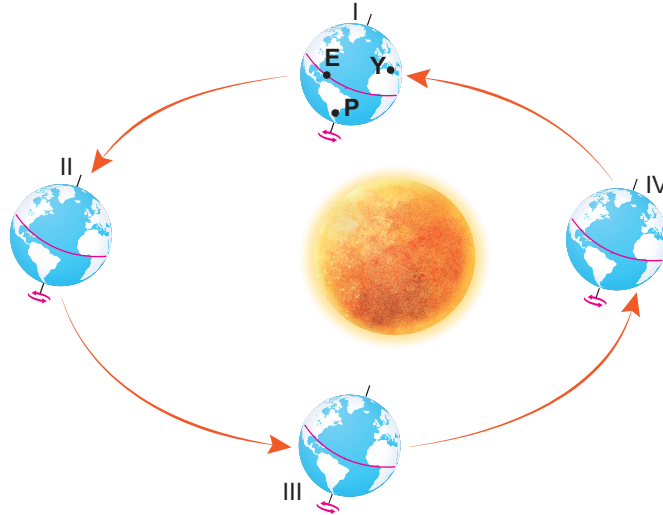
6. Aşağıdaki tabloda Dünya üzerinde bulunan bazı şehirlerin 21 Haziran tarihindeki gece - gündüz süreleri verilmiştir.

Şehirler	P	R	S	T
Gece Süresi (Saat)	7	18	15	9
Gündüz Süresi (Saat)	17	6	9	15

Buna göre bu şehirlerle ilgili olarak aşağıdaki ifadelerden hangisi doğrudur?

- A) P şehri Güney Yarım kürede olup kış mevsimini yaşamaktadır.
 B) R şehri 23 Eylül'de ilkbahar mevsimine geçiş yapacaktır.
 C) S şehri T şehri ile aynı yarım kürede bulunmaktadır.
 D) Güneş ışınları 21 Mart tarihinde hepsine dik olarak düşer.

7. Dünya'nın Güneş etrafındaki dolanımı esnasında bulunduğu konumları ile Y, E ve P ülkelerinin Dünya üzerindeki yerleri aşağıdaki görselde verilmiştir.



Buna göre;

- I. Dünya II konumunda iken bir cismin öğle saatindeki gölge boyu en uzun P ülkesinde ölçülür.
 II. Güneş ışınları E ülkesine yılda sadece iki kez dik açı ile düşer.
 III. Y ülkesinde III konumunda ilkbahar IV konumunda ise yaz mevsimi yaşanmaya başlar.

İfadelerinden hangileri doğrudur?

A) Yalnız.

B) Yalnız II.

C) I ve II.

D) I, II ve III.

8. Şeyma öğretmen hazırladığı aşağıdaki etkinlik kâğıdını öğrencilerine dağıtarak onlardan etkinliği yapmalarını istiyor.

✓ Aşağıdaki ifadeleri okuyunuz. İfadeler doğru ise 'D', yanlış ise 'Y' kutucuğunu 'X' ile işaretleyiniz.

İfadeler	D	Y
1. Dünya'nın Güneş'e olan uzaklığının mevsimlerin oluşmasında etkisi yoktur.		
2. Eksen eğikliği sebebiyle yıllık sıcaklık farkları meydana gelir.		
3. Güney Yarım Kürede 21 Aralık tarihinden sonra geceler uzamaya başlar.		
4. Kuzey Yarım Kürede 23 Eylül tarihinden sonra gündüzler gecelerden uzun olur.		

Buna göre bu etkinliğin cevap anahtarı hangi seçenekte verilmiştir?

A)

	D	Y
1.	X	
2.	X	
3.		X
4.		X

B)

	D	Y
1.	X	
2.		X
3.	X	
4.		X

C)

	D	Y
1.		X
2.	X	
3.		X
4.	X	

D)

	D	Y
1.	X	
2.	X	
3.	X	
4.		X